

klaskrant
bosbende
september



jarigen van de maand



Alessia, Sven

weetjes

Mohamed: ijsberen hebben een zwarte huid, de vacht maakt hem wit. Je kan dit zien aan zijn snuit.

Arthur O.: je kan eenvoudig een katapult maken. Je hebt alleen een Y vormige stok nodig en een elastiek.

Ferre: dinosaurussen zijn uitgestorven door een meteoriet.

Greg: kleinste dinosaurus is de rector.

Ferre: grootste dinosaurus is de spinosaurus.

Ferre: de dinosaurus die het hardste kan bijten is de tyrex.

Flamingo's zijn roos door de garnalen die ze eten.

Sven: de metro rijdt zonder chauffeur.

Sven: er bestaan vliegende vissen.


De herfst is begonnen.

21 september: vandaag is de dag even lang als de nacht.

Arhur V: spaghetti komt oorspronkelijk uit China en niet uit Italië.

Onderzoek

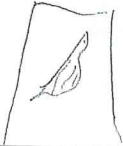
rode wesp
 Schrijf of stempel hier de naam van het dier *larve* *Elene* naam

Hoe ziet het dier er uit? 

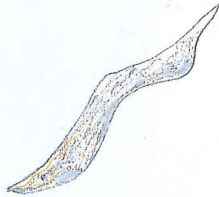
orange

Waar leeft het dier? 

in een boomstam




Kies een passende afbeelding en kleef ze in dit vak

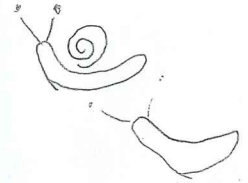


Teken, kleef een foto, illustreer waar je dier leeft (zoo, boerderij, bos, nest, hok, ...)

Hoeveel jongen krijgt het dier? verzorging? nest? Wanneer?




Welke dieren zijn familie van dit dier?




Wat geeft het dier ons? 

niets

Hoe moet je het dier verzorgen? (huisdier) 

geen hok

Tot welke diersoort behoort het dier?



nieuwsjes



TOVERBOS
BRASSCHAAT

nieuws van Het Toverbos

06 SEP 2021

b

konijnen lever
letter b

06 SEP 2021

wasberen
vandaag linnen




07 SEP 2021

earw is
ziek
bomondersoekers
8/9/21

10 SEP 2021

HWM 3 jarigen
op een week




Riana
Jon

schoolreporters

Arthur

week: 36



nieuws van de bosbende


06 SEP 2021



boek ijslaar roshamed

07 SEP 2021

07 SEP 2021



Taart



8/9/21

ALISSTA

feest

9/9/21

LILY

10 SEP 2021



vrouwen geg

gereg

wsreporters RAZI WIRAMA week: 36



KIZIV

nieuws van de bosbende



Jesse Chiro



22 SEP 2021



Arthur deekhoorn op de weg



23 SEP 2021



Ruander is gaan harler

nieuwsreporters

Arjan

week: 38



nieuws van Het Toverbos



roodlonstjes leren over muziek

20 SEP 2021



21 SEP 2021

22 SEP 2021



Luiske's instrument



L1 iemand zieh

schoolreporters

meaf op naam

week: 38



noten mi sol do fa



nieuws van de bosbende

13 SEP 2021
tand uit
Nina

14 SEP 2021
fotooestel
Lily

15 SEP 2021

17 SEP 2021

nieuwsreporters Riander & Kemor week: 37



nieuws van Het Toverbos

13 SEP 2021
koningen leren
over
silkhanen

14 SEP 2021
wasleren
turnen

15 SEP 2021
boswonderzoekers
gaan zwemmen

17 SEP 2021
duizendpoten
robot
naar
wanus
(recreatie)

schoolreporters Rama & Micah week: 37



nieuws van de bosbende

27 SEP 2021



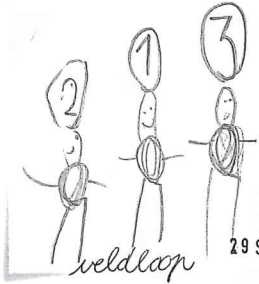
Ruander
gevallen van de
schommel

28 SEP 2021



experiment
Gug

experiment



veldloop

29 SEP 2021




30 SEP 2021

17 sep best
duty 0
skan



nieuwsreporters Jepel Meek week: 39

veld loop de
winaatr is lemon





nieuws van Het Toverbos

herfst
Roedborstjes



27 SEP 2021

29 SEP 2021



30 SEP 2021

duotaken


woordposter

la

Schrijf of stempel het woord


la
schuif

teken het woord of kleef een afbeelding



woordposter

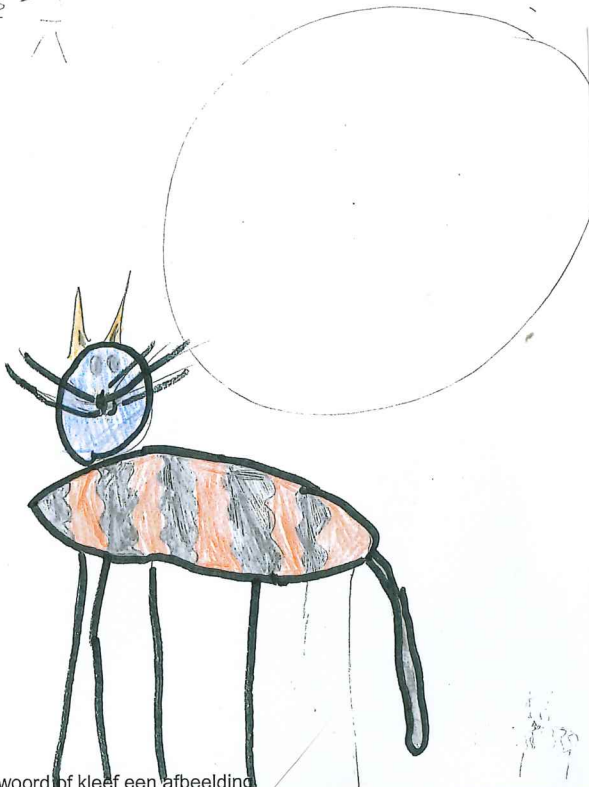
Schrijf of stempel het woord



teken het woord of kleef een afbeelding



16-5



woordposter Lily

KITTEN

Schrijf of stempel het woord

teken het woord of kleef een afbeelding





duodozen

naam: anna
datum: anna



naam: lucy
datum: _____



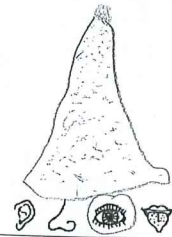

naam: Willem

datum: 23 SEP 2021

K GA OP UITSTAP NAAR: bakermolen
schrijf of teken wat je zag of deed.

signaal
signaal van de
bakermolen

meel



vat kon je horen, ruiken, proeven of voelen? kleur het juiste
ormpie bij de tekening. vond ie het interessant? kleur de lamp



23 SEP 2021



naam: Jerve

datum: _____

K GA OP UITSTAP NAAR: _____
schrijf of teken wat je zag of deed.

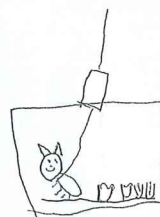

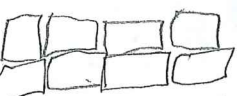
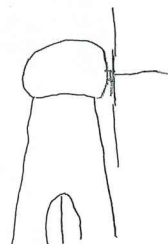
meelen

graaf



Heeft

ruiken



vat kon je horen, ruiken, proeven of voelen? kleur het juiste
ormpie bij de tekening. vond ie het interessant? kleur de lamp



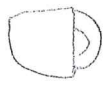
vat kon je horen, ruiken, proeven of voelen? kleur het juiste
ormpie bij de tekening. vond ie het interessant? kleur de lamp



naam: Arthuro datum: 24/9/2021


K GA OP UITSTAP NAAR: bakkersmoolen
schrijf of teken wat je zag of deed.

the




☞ ☞ ☞ ☞ ☞ ☞ ☞ ☞

moolen




☞ ☞ ☞ ☞ ☞ ☞ ☞ ☞

graan



☞ ☞ ☞ ☞ ☞ ☞ ☞ ☞

toer



☞ ☞ ☞ ☞ ☞ ☞ ☞ ☞

vat kon je horen, ruiken, proeven of voelen? kleur het juiste ormpie bij de tekening. vond ie het interessant? kleur de lamp



naam: Roske datum: 27/9/2021


K GA OP UITSTAP NAAR: bakkersmoolen
schrijf of teken wat je zag of deed.

moolen




☞ ☞ ☞ ☞ ☞ ☞ ☞ ☞

meel




☞ ☞ ☞ ☞ ☞ ☞ ☞ ☞

gids



☞ ☞ ☞ ☞ ☞ ☞ ☞ ☞

meel



☞ ☞ ☞ ☞ ☞ ☞ ☞ ☞

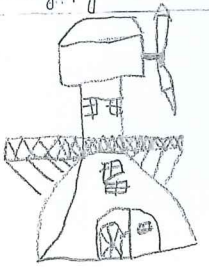
vat kon je horen, ruiken, proeven of voelen? kleur het juiste ormpie bij de tekening. vond ie het interessant? kleur de lamp



naam: yoey datum: 24 SEP 2021

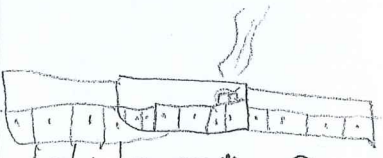
K GA OP UITSTAP NAAR: bakkersmoolen
schrijf of teken wat je zag of deed.

ik ging in de moolen.




☞ ☞ ☞ ☞ ☞ ☞ ☞ ☞

ik geef iets.



☞ ☞ ☞ ☞ ☞ ☞ ☞ ☞

ik speel in de speeltuin.



☞ ☞ ☞ ☞ ☞ ☞ ☞ ☞

ik eet brood



☞ ☞ ☞ ☞ ☞ ☞ ☞ ☞


vat kon je horen, ruiken, proeven of voelen? kleur het juiste ormpie bij de tekening. vond ie het interessant? kleur de lamp



naam: zwen datum: 23/9/2021

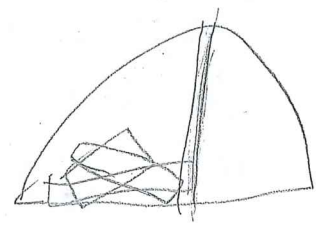
K GA OP UITSTAP NAAR: bakkersmoolen
schrijf of teken wat je zag of deed.

naar de molen



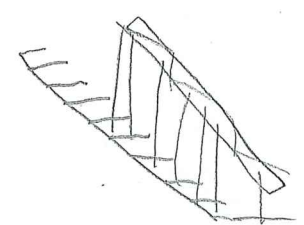
☞ ☞ ☞ ☞ ☞ ☞ ☞ ☞

oven



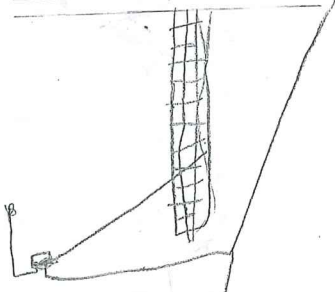
☞ ☞ ☞ ☞ ☞ ☞ ☞ ☞

de trap



☞ ☞ ☞ ☞ ☞ ☞ ☞ ☞

molen



☞ ☞ ☞ ☞ ☞ ☞ ☞ ☞

vat kon je horen, ruiken, proeven of voelen? kleur het juiste ormpie bij de tekening. vond ie het interessant? kleur de lamp



dit heb ik geleerd

dit heb ik geleerd

naam: lily

datum: 22/9/2022

betinkingen 3

$$6 + 3 + 4 = 13$$

stap ① $6 + 4 = 10$

stap ② $10 + 3 = 13$

stap ③ $6 + 3 + 4 = 13$

$$20 - 3 - 8 = 9$$

stap ① $20 + 8 = 10$

stap ② $20 - 10 = 10$

stap ③ $10 - 3 = 7$

stap ④ $20 - 3 = 8 = 9$

dit heb ik geleerd

naam: Aloma

datum:

hoofdletter



dit heb ik geleerd

naam: Ferre

datum:



$$16 - 8 = 16 - 6 = 10$$

$$6 \quad 2 \quad 10 - 2 = 8$$

Ferre

dit heb ik geleerd

naam: rose

datum:

werkwinkel

ronit

digitaal

rekenbus

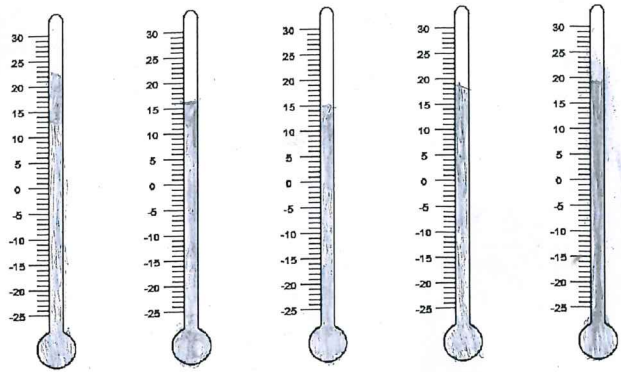
teppie

rees

perlicht

klas

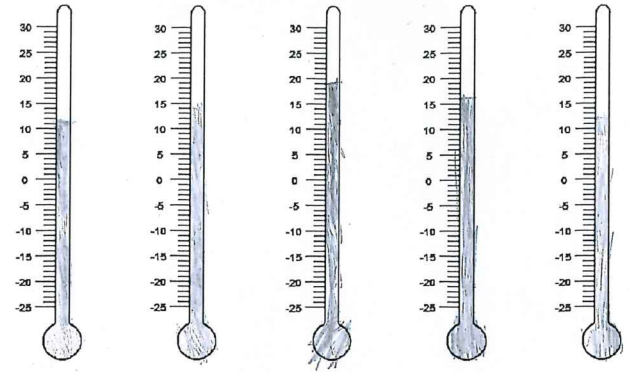
Het weer



maandag dinsdag woensdag donderdag vrijdag

	○	○	X	○	○
	X	X	X	X	X
	X	X	○	○	○
warmste dag	[blue shading]			[red shading]	
koudste dag	[blue shading]			[red shading]	
	13°C	14°C	15°C	19°C	19°C

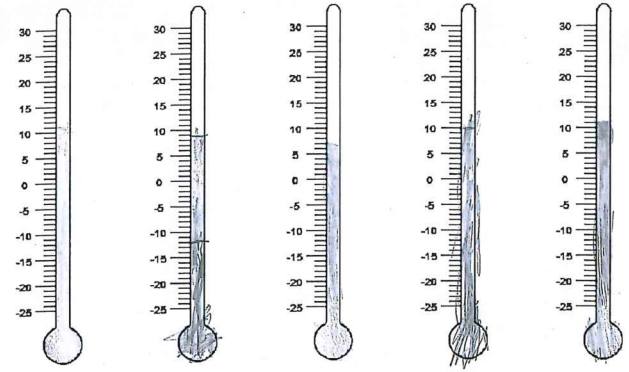
Het weer



maandag dinsdag woensdag donderdag vrijdag

	○	X	○	X	X
	X	X	○	X	X
	X	X	○	V	V
warmste dag			[red shading]		
koudste dag	[blue shading]				
	12°C	14°C	7°C	16°C	12°C

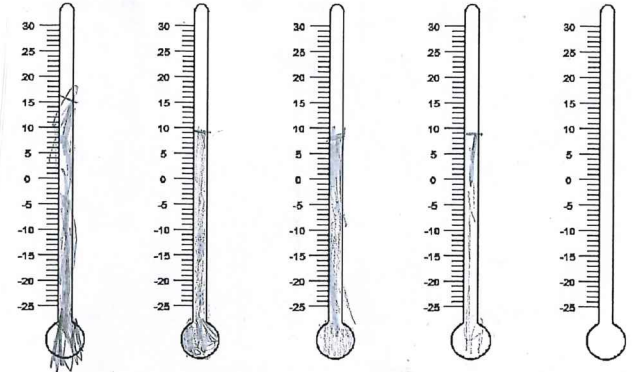
Het weer



maandag dinsdag woensdag donderdag vrijdag

	X	○	X	○	○
	X	V	X	○	X
	V	X	V	○	V
warmste dag	[red shading]				[red shading]
koudste dag			[blue shading]		
	11°C	8°C	7°C	10°C	11°C





Het weer



maandag dinsdag woensdag donderdag vrijdag

	V	○		○	
	○	X		X	
	X	V		V	
warmste dag	[red shading]	[red shading]			
koudste dag			[blue shading]		
	16°C	9°C	8°C	8°C	8°C

plannetjes



WEESTEVREDEENMET
JEZELF, JEKANTJE
SGROOTENKLEIN.
GELDOFME.
NIETSIISMOOIER
DANJEPURE
ZELFTEZIJN.